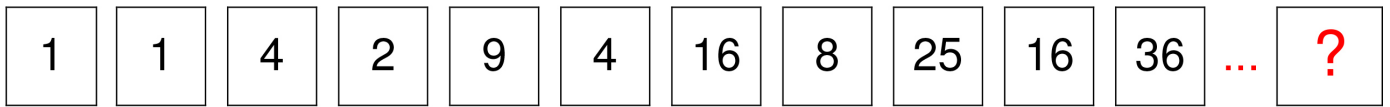




SOLUZIONE DELL'ENIGMA

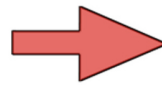
# Il numero successivo

succursale



Quesito: **Trova il numero successivo della sequenza.**

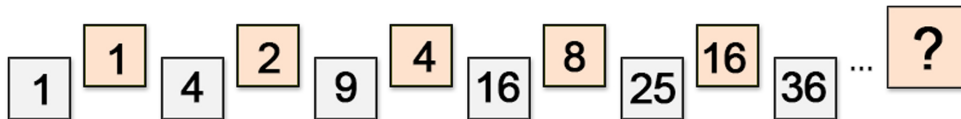
SOLUZIONE



**32**

## POSSIBILE STRATEGIA RISOLUTIVA

La sequenza numerica presentata consiste in verità di due successioni intrecciate, come mostrato in basso:



I quadratini in basso contengono i quadrati dei numeri naturali e non sono rilevanti ai fini della risoluzione. I numeri in alto sono invece l'uno il doppio del precedente. Nell'ultimo quadratino va quindi scritto il doppio di 16, cioè **32**.